

Prénom :

Date :

Téléchargé gratuitement sur
<http://orpheecole.com>

① Résoudre des problèmes de partage

A

B

C

D





Arthur et Zoé se sont partagé des images d'animaux.

1 Arthur a-t-il autant d'images que Zoé ?

Oui

Non




Arthur et Zoé se sont partagé des cerises.

2 Arthur a-t-il autant de cerises que Zoé ?

Oui

Non

Arthur et Zoé veulent se partager ces noisettes, ces balles et ces papillotes. Arthur doit en avoir à chaque fois autant que Zoé. 3 Entoure la part de chacun.



Arthur, Zoé et Gribouille veulent se partager les billes qui sont dans ce sac. Chacun doit avoir autant de billes. 4 Combien chacun aura-t-il de billes?



Mon calcul / mon dessin :

Ma réponse :

Chacun aura ... billes.