




Problème du jour, i'v cours !  Le Petit Prince | CE


Le Petit Prince demande à Saint-Exupéry de dessiner un mouton. L'aviateur fait trois essais (dessine 3 moutons). Combien dessine-t-il de pattes ?

Problème du jour, i'v cours !  Le Petit Prince 2 CE




Les baobabs sont des arbres grands comme des églises. Un troupeau d'éléphants ne pourrait pas manger un baobab ! Si un troupeau comprend 8 éléphants et que chaque éléphant mange 200 kg de baobab. Combien pèse ce baobab ?

Problème du jour, i'v cours !  Le Petit Prince 3 CE




Sur sa planète le Petit Prince a déjà vu le soleil se coucher 44 fois en une journée. Combien de fois le voit-il se coucher en une semaine ?

Problème du jour, i'v cours !  Le Petit Prince 4 CE




Il profita d'une migration d'oiseaux sauvages pour son évacion. Un oiseau peut porter 2 kg d'homme. Le petit Prince pèse 30 kg. Combien fallait-il d'oiseaux pour le porter ?

Problème du jour, i'v cours !  Le Petit Prince 5 CE




Le Petit Prince quitte sa planète et visite des astéroïdes. Il commence par le 326 et s'arrête sur les 5 astéroïdes pairs suivants. Nomme-les.

Problème du jour, i'v cours !  Le Petit Prince 6 CE



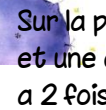
Le premier astéroïde est habité par un roi. Sur cet astéroïde, le soleil se couche à 7 h 40. Sachant qu'il est 1 h 20. Combien de temps faudra-t-il attendre pour voir le soleil se coucher ?

Problème du jour, i'v cours !  Le Petit Prince 7 CE




Sur la planète du vaniteux, le Petit Prince applaudit 7 fois en 5 minutes. Combien de fois va-t-il applaudir en 1 heure ?

Problème du jour, i'v cours !  Le Petit Prince 8 CE




Sur la planète du buveur, le petit prince trouve une collection de bouteilles vides et une collection de bouteilles pleines. Il y a 2 caisses de 6 bouteilles pleines. Il y a 2 fois plus de caisses de bouteilles vides. Combien y a-t-il de bouteilles vides ?

La q Problème du jour, i'v cours !  Le Petit Prince 9 CE



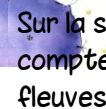
compter. Il comptait les étoiles avant que le Petit Prince ne l'interrompt. Il est arrivé à quinze et sept et six et cinq et un. A combien d'étoiles est-il arrivé quand le prince arrive ?

Problème du jour, i'v cours !  Le Petit Prince 10 CE




Sur la cinquième planète, un réverbère et un allumeur de réverbères. Sur cette planète un jour dure une minute. Combien de temps dure 3 mois (de 30 jours) ?

Problème du jour, i'v cours !  Le Petit Prince 11 CE



Sur la sixième planète, un géographe. Il lui manque un explorateur pour faire le compte des villes, des fleuves, des montagnes. S'il y a 25 villes, deux fois plus de fleuves et 3 fois plus de montagnes que de fleuves, combien y a-t-il de fleuves ?

Problème du jour, i'v cours !  Le Petit Prince 12 CE



La septième planète fut la Terre. On y compte 111 rois, 7 000 géographes et 684 vaniteux. Combien y a-t-il de personnes sur la Terre ?